



تاریخ آزمون : . . . . . ۱۴۰۱/۱۰

پایه : پنجم

اداره آموزش و پرورش شهرستان خوزستان


شقایق ۲ ارزشیابی اول ریسماضی تحصیلمی ۱۴۰۱ تا ۱۴۰۲ د صفحه صفحه صفحه

۱ ست پر کنید .  
 (۲۴۶) . . . . . میلی متر  
 . . . . . ۱۳ .

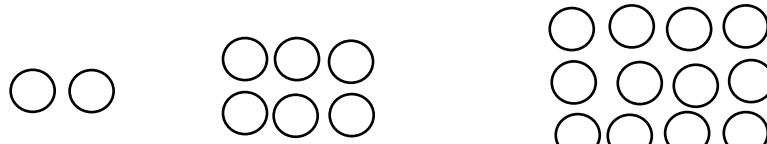
۲ تخاب کنید .  
 ( کدام است ؟  
 ۴۰۳ (۹۲) ۴۰۳ (۲۴۲) ۵۵۵ (۵) ۴۰۳ (۴۳) ۴۰۳ (۴۴)  
 ( ز بقینو گ است ؟  
 ۲ ( ۲  $\frac{1}{3}$  ) ۳ ( ۳  $\frac{7}{5}$  ) ۴ ( ۴  $\frac{2}{5}$  )  
 کیبردووهزتا رست و، ۱۳۰ گ ر ا م ر ک و ز و ک ه ت تار و م ت ت ر د پ و و و ه  
 ه ا د م و ر و و ی ز ک ر د ه است ؟  
 ۱۰۰ و ۳۰۰ م ت ر ک ی ل و م ۶۲۴ ر و ۰ م ت ر  
 ۴۰۰ و ۳۰۰ م ت ر ک ی ل و م ۴۶ ت ش ر و ۰ م ت ر

۳ زیر پاسخ دهید .  
 خبرنووف یسید .  
 . . . . .  
 . . . . . ط ی ق ه د ا ر د .  
 . . . . . ر ق م . . . . . ق ر ا ر د ا ر د .  
 . . . . .  
 . . . . . ی ق و ی س ی د ا . . . . .  
 . . . . . ل ر و ش ر . . . . . ل ک ا ن ی . . . . . ر ق م . . . . .

**2307569100**

۴ نه ا و ا ر ا خ ی و د ا و ش ل ب ا ن د ا ش م ت و گ و ۴ ک ا ف و ل ا د خ و ز س ت ا ن  
 ر ، د ا م س ت ا ع ز ت و ۳۹ ر ا ن ن د گ ی ا و ر ا ح س ا ب ک ن ی د .  


۵ ت زیر پاسخ دهید .



(۱) شکل (۲) شکل (۳) شکل (۴) شکل

را تکمیل کنید .

شکل (۱)	شکل (۲)	شکل (۳)	شکل (۴)
۱	۲		

ی به بیها را پیدا کنید .

ی شکل بیستم را حساب کنید .

۶ عدد مخلوط تبدیل کنید .

$$\frac{4}{7} = \quad \frac{2}{4} = \quad \frac{87}{9} = \quad \frac{59}{7} =$$

۷ بود انجام دهید .

1)  $2\frac{2}{5} \times 1\frac{3}{6} =$

2)  $\frac{2}{3} \times 12 =$

3)  $\frac{3}{5} \div 4 =$

3)  $3\frac{2}{5} + 4\frac{3}{4} =$

4)  $7 - 5\frac{3}{6} =$

۸ . پید

$$\frac{44}{66} =$$

$$\frac{7 \times 28}{4 \times 54} =$$

تاریخ آزمون : . . . . . ۱۴۰۱/۱۰

پایه : پنجم

زمان دقیقه

اداره آموزش و پرورش شهرستان خوزستان


شقایق ۲ ارزشیابی اول و دوم سال تحصیلی ۱۴۰۱ تا ۱۴۰۲ صفحه صفحه

۹	<p>پدری <math>\frac{4}{5}</math> برنده توانست ف، ر ناگگی را کوا رد در ؛ <math>\frac{2}{3}</math> چاه کسری از با رسم شکل حل کنید .</p>				
۱۰	<p>یک زن ۸۰ کیلو را یهدات حفظاً ۱۰ با همین سر همقیه قلمو ۰ بچند می کند ؟</p>				
۱۱	<p>تان سعدی را با د رتخلف یفبث و اقمین منبت مخور ۰ یعداری چقدر بوده است ؟</p>				
	<p>سپس آن را حل کنید .</p> <table border="1" data-bbox="391 1097 630 1220"> <tr> <td>۳۰</td> <td>؟</td> </tr> <tr> <td>۴۵</td> <td>۱۵</td> </tr> </table>	۳۰	؟	۴۵	۱۵
۳۰	؟				
۴۵	۱۵				

با ز حل کنید :

ن	☆	☆	☆	☆	☆	نتیجرات آموزشی
						اند بخواند و بنویسد .
						می به درستی تقریب بزند .
						ستی محاسبه می کند .
						روابط آن ها ادامه دهد .
						به کسر تبدیل می کند .
						دوا جملوطا تبدیل می کند
						درستی انجام می دهد .
						درستی انجام می دهد .
						درستی انجام می دهد .
						رها آشنایی دارد .
						به درستی ساده کند .
						مبها بدلرستی حل می کند .
						و با درصد آشنایی دارد .

باشد ، اگر همه با به بهمت پور اگی سد تدر فشرط طآن بکوشد ی م.



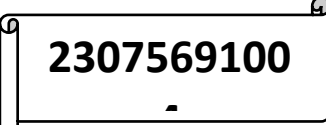
تاریخ آزمون : . . . . . ۱۴۰۱/۱۰

پایه : پنجم

ن. خوزستان

اداره آموزش و پرورش و پرورش ز ناحیه ۲

شقایق ۲ ارزشیمه بی اولی و لرسساملی تحصیله ای ۱۴۰۱ تا ۱۴۰۲ د صفحه صفحه

۱	ست پر کنید . (توتی و میگلته مریله ای ایموتنر وب لصد هزار										
۲	تخاب کنید . یه ی گزیده ی ۳ گزیده ی ۳										
۳	ص و سوه نود و یک هزار و چهار قلم اطوبه  ۲۳۰۷۵۷ (جزا . جزا) تقیه لکنه ای ره مقوم تبه ی صد گاتنغیم پیی رله ایمون کند .										
۴	شبر ای عینید انک نیق له عت لیکس سا عتی و عم آن را به اهز کند طبعه نگ ماعت و ۶م آن کل را نند گیب : اعتاد قویه ۹ق ۴ه .										
۵	( <table border="1"><thead><tr><th>ل ۴)</th><th>کل (۳)</th><th>ل ۲)</th><th>ل ۱)</th><th>ی نکل</th></tr></thead><tbody><tr><td>۱۲</td><td>۶</td><td>۲</td><td>۰</td><td>ایره</td></tr></tbody></table> بطله بدست می آید . البته اگر دانش آموز با تناسب داشت مورد قبول است . $2 \times 19 = 380$	ل ۴)	کل (۳)	ل ۲)	ل ۱)	ی نکل	۱۲	۶	۲	۰	ایره
ل ۴)	کل (۳)	ل ۲)	ل ۱)	ی نکل							
۱۲	۶	۲	۰	ایره							
۶	کس و خوط تبدیل کنید . $\frac{4}{7} = \frac{18}{7}$ $\frac{2}{4} = \frac{14}{4}$ $\frac{87}{9} = \frac{6}{9}$ $\frac{59}{7} = \frac{3}{7}$										
۷	نود انجام دهید . $\frac{3}{6}$ $\frac{1}{2}$ $\frac{13}{20}$ $\frac{3}{20}$ (۴)    (۴)    (۴)    (۱۲)										
۸	ید . $\frac{44}{66} = \frac{2}{3}$ $\frac{7 \times 28}{4 \times 54} = \frac{16}{21}$										

تاریخ آزمون : . . . . . ۱۴۰۱/۱۰

ن . خوزستان

پایه : پنجم

اداره آموزش و پرورش لرهورش ز ناحیه ۲

شقایق ۲ ارزشیمله بی اولی و لرسسماظی تحصیلی ۱۴۰۱ تا ۱۴۰۲ د صفحه صفحه صفحه

۹		$\frac{8}{15}$					
	»	«					
	»	«					
	»	«					
	»	«					

۱۰	د ۳ قوی تقا = قوی تقا ه				
	<table border="1"> <tr> <td style="width: 50%; text-align: center;">۲۰</td> <td style="width: 50%; text-align: center;">۲۰</td> </tr> <tr> <td style="text-align: center;">۲۸</td> <td style="text-align: center;">۲۸</td> </tr> </table>	۲۰	۲۰	۲۸	۲۸
۲۰	۲۰				
۲۸	۲۸				

۱۱	لصخت قکیرمت یما ۱۷ و ۱۵ یه بود .						
	<table border="1"> <tr> <td style="width: 50%; text-align: center;">۲۵</td> <td style="width: 50%; text-align: center;">۲۰۰</td> </tr> <tr> <td style="text-align: center;">۷۵۶۰۰</td> <td style="text-align: center;">۸۰۰۰</td> </tr> <tr> <td style="text-align: center;">۱۰</td> <td style="text-align: center;">۸۰۰۰</td> </tr> </table>	۲۵	۲۰۰	۷۵۶۰۰	۸۰۰۰	۱۰	۸۰۰۰
۲۵	۲۰۰						
۷۵۶۰۰	۸۰۰۰						
۱۰	۸۰۰۰						
	ملاقیومت اولیه ی کتهابا د						
	تومان بود .						

۱۲	جز را بیان کند مورد قبول است .
----	--------------------------------