

م با اعداد گی :

طراح سوال :

پنجم :

تاریخ : 981017

سوال :-

سوال : سوالات 5 و 4 و 3 و 2 و 1 را پاسخ دهید :

..... بنویسید :

.....؟

.....؟

.....؟

زیر را انجام دهید .

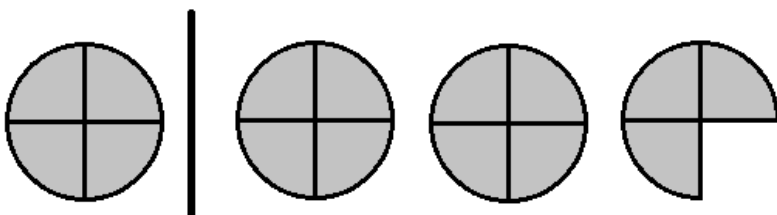
$\begin{array}{r} 5 \quad 244 \quad 522 \\ + 1 \quad 044 \quad 188 \\ \hline \end{array}$	$\begin{array}{r} 100 \quad 54' \quad 522' \\ - 1 \quad 21' \quad 300' \\ \hline \end{array}$
---	---

شکل 3 ده چند ستاره دارد؟



.....؟

..... بنویسید .



.....؟

.....؟

به 6 لی به ساعت فوقی یا آمن تا رشمه شیل اینه که 71 کیلومتر طولی به طول 4 م است چقدر است؟

7) به انجام دهید.


$$4\frac{2}{5} + \frac{1}{2} =$$

$$7 - 3\frac{1}{3} =$$

$$\frac{1}{2} + \frac{1}{3} - \frac{1}{4} =$$

امکونی به مورصه الا به بتناخه 30 یقه به بهت 6000 و 15 به 4 به اس را حساب کنید.

9) زیر رنگ شده است؟



10) مناسب پر کنید.

2	14
7	

	320
7	560

کندگیرم و بفرستی هر از ن فون چند مداد می رسد؟

به وقتش باشید

پایان نامه

سوال 1:

و اچهل و دو هزار و شصت و پنجاه و نه
ن میله (بیله) یارد
ان میله یارد
ان میله یون

سوال 2:

$$\begin{array}{r} 5 \quad 244 \quad 522 \\ + 1 \quad 044 \quad 188 \\ \hline 6 \quad 28' \quad 700 \\ - \quad \quad \quad 600 \\ \hline 6 \quad 29' \quad 100 \end{array}$$

$$\begin{array}{r} 100 \quad 54' \quad 522 \\ - 1 \quad 21' \quad 300 \\ \hline 9 \quad 333 \quad 222 \end{array}$$

سوال 3:

شکل	1	2	3	4	5	6	7	8	9	10
ستاره	1	3	5	7	9	11	13	15	17	19

سایر نظایرتیتر

سوال 4:

$$\begin{array}{r} 1 \quad 722 \\ - 1 \quad 455 \\ \hline 0 \quad 277 \end{array}$$

از رده و این روش بزرگتر است.

کسر و ابلز 5: کسر از واحد: $\frac{111}{4}$ عدد مخلوط: $2\frac{3}{4}$

سوال 6:

$$7+5=122$$

$$12 \times 2 = 244$$

عرض	5	10
طول	7	14
محیط	24	48

x2

سوال 7:

$$4\frac{2}{5} + \frac{1}{2} = 4\frac{4}{1} + \frac{5}{1} = 4\frac{9}{1}$$

$$7 - 3\frac{1}{3} = \frac{7}{1} - \frac{1}{3} = \frac{2}{3} - \frac{1}{3} = \frac{1}{3} = 3\frac{2}{3}$$

$$\frac{1}{2} + \frac{1}{3} - \frac{1}{4} = \frac{6}{1} + \frac{4}{1} - \frac{3}{1} = \frac{7}{1}$$

سوال 8:

700% - 300% = 100%


x800 0

70	5600
100	8000

قیمت خرید: 70
قیمت اصلی: 100

بد قومن لباس تبخون مخخيف

سوال 9:



$$\frac{1}{4} = 25\%$$



$$\frac{2}{8} = 25\%$$



$$\frac{2}{5} = 40\%$$



$$\frac{4}{8} = 50\%$$

سوال 10:

2	14
7	49

4	320
7	560

سوال 11:

تعداد دانهها: $9 \times 18 = 166$

27 افراد به هی نفر می رسد $166 \div 6 = 27$